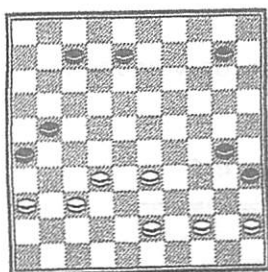
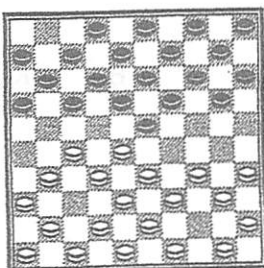


diagram 3.4



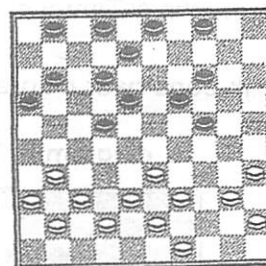
Wit wint.

diagram 3.5



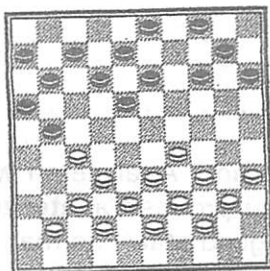
20-24 of 20-25?

diagram 3.6



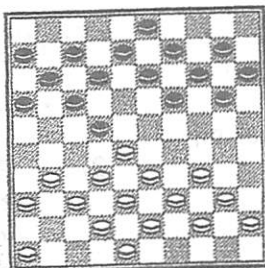
Wit aan zet!  
Wie staat er beter?

diagram 3.7



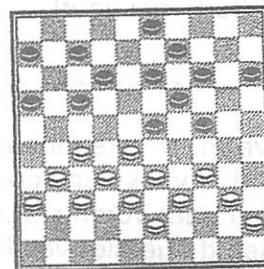
Wie staat er beter?

diagram 3.1



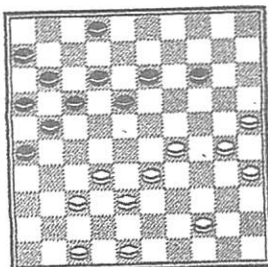
12-18 of 20-24?

diagram 3.2



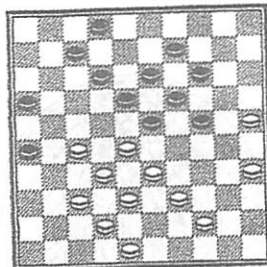
6-11 of 7-11?

diagram 3.10



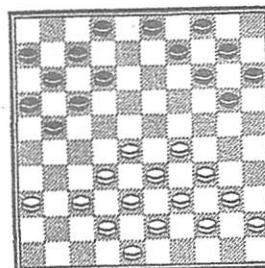
Wie staat er beter?

diagram 3.11



Wie staat er beter?

diagram 3.12



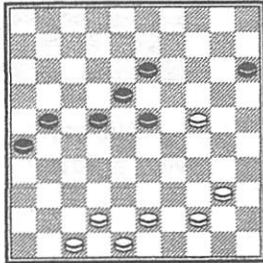
Wie staat er beter?



**Opdracht 4** Tempi en analyseren

A. Kijk eens naar diagram 4.1.

diagram 4.1



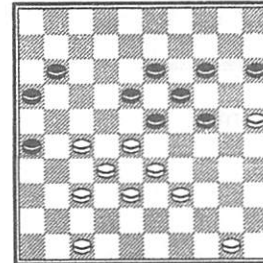
Kun jij nu zelf de rekensom maken? Uit het hoofd? Als dat lukt zul je erachter komen dat wit nu geen tempi voor staat. Zwart staat zelfs tempi voor!

.....

Als je ver naar voren staat ben je dichterbij dam. Dat is vaak een voordeel. Als je ver naar voren staat moet je ook oppassen dat je niet vastloopt.

B. Kijk nu eens naar de volgende klassieke stand.

diagram 4.2



1) Tel de tempi en kijk wie er tempi voor staat.

.....  
 .....

2) Analyseer de stand. Analyseren wil zeggen dat je er probeert achter te komen wie er goed staat. Je mag dus de schijven verzetten. Wit is aan zet.

.....  
 .....

