

1.3 Taxatie



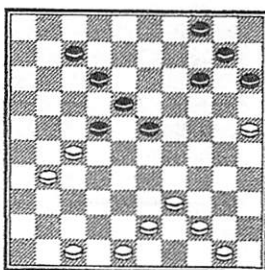
**Opdracht 1** Staat wit goed of zwart, of is het gelijk?

Sijbrands is natuurlijk erg sterk. Een specialiteit van Sijbrands is het centrumspel. Je krijgt nu zes diagrammen die allemaal uit partijen komen van Sijbrands. Ze komen ook alle zes uit hetzelfde boek: 'Ton Sijbrands, dammer' van Sijbrands zelf en van Jules Welling. Deze pocket uit 1973 bestaat uit twee delen: het eerste deel is tekst en gaat over van alles en nog wat. Kort gezegd: het leven van Sijbrands.

Het tweede deel is technisch: tweehonderd partijen van Sijbrands met af en toe een diagram en af en toe commentaar. Als je goed oplet kom je dit boek wel eens ergens tegen. Je moet dit boek eigenlijk ook hebben! Het is leuk om te lezen en de partijen van Sijbrands zijn natuurlijk fantastisch om na te spelen.

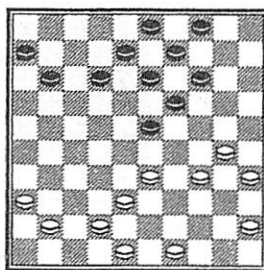
Nu dus zes standen uit dit boek. De vraag bij iedere stand is: wie staat er goed of is het gelijk? Je kunt je ook nog even afvragen welke kleur Sijbrands heeft.

diagram 1



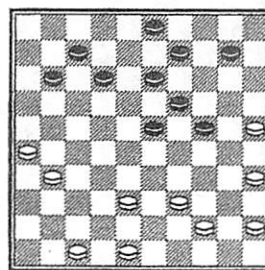
Zwart aan zet.

diagram 2



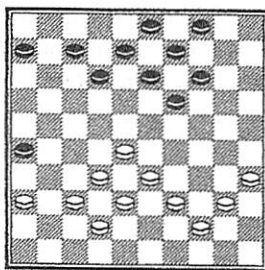
Zwart aan zet.

diagram 3



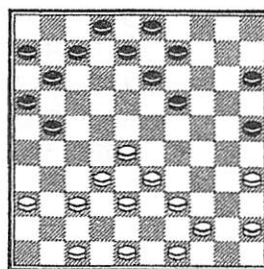
Zwart aan zet.

diagram 4



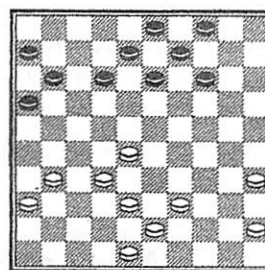
Wit aan zet.

diagram 5



Wit aan zet.

diagram 6



Wit aan zet.



**Opdracht 2** Koeperman en hoe bouw je je stand op?

Koeperman heeft ongetwijfeld de meeste damboeken geschreven. In de voormalige Sovjet-Unie zijn er een heleboel verschenen, maar ook in Nederland. De meeste van zijn boeken gaan over strategie en positie spel. Koeperman staat bekend om zijn sterke centrumspel. Koeperman is geduldig. Hij kent natuurlijk de kracht van het centrum. Hij kent de kracht van de middenpiramide. Daarom nu een opdracht met een stand van Koeperman.

En je moet proberen te raden welke stand Koeperman heeft opgebouwd. De stand komt uit het wereldkampioenschap in Den Haag in 1994. Koeperman was door een simpel openingszetje tegen de Surinamer Burleson een schijf achter geraakt. Koeperman trok zich er blijkbaar weinig van aan en bouwde rustig door in het centrum. Dus, je hebt de volgende stand met zwart en een schijf minder. Welke stand kies jij, met zwart aan zet, om op te bouwen? A, B of C?

Burleson-Koeperman

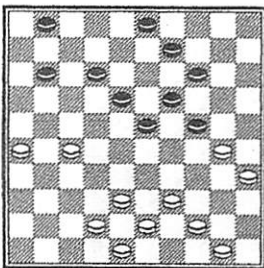


diagram A

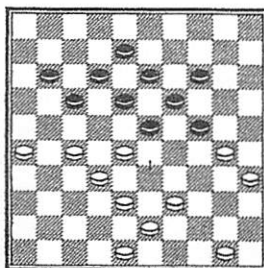


diagram B

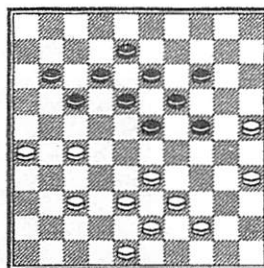
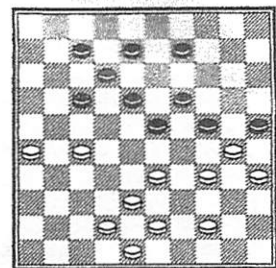


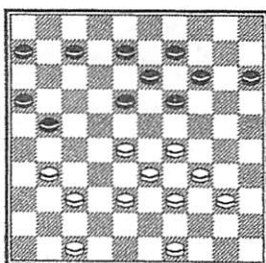
diagram C



**Opdracht 3** Wie staat er goed en waarom eigenlijk?

Rob Clerc speelde in het wereldkampioenschap in 1990 in Groningen een fraaie centrumpartij tegen Weitsman. Langzaam maar zeker pakte Clerc meer centrum. Langzaam maar zeker kwam hij ook in de aanval. Mooi was dat allerlei kleine combinaties een rol speelden. Positiespel en combinatiespel samen! Wat wil je nog meer? Bij het diagram krijg je volgende opdracht, met zwart aan zet(!):

Dat stukje moet er ongeveer zo uitzien: In dat stukje moeten de volgende woorden voorkomen: centrum, randschijven, piramide en aanval. In dat stukje moet je ook een paar varianten geven waaruit blijkt dat één van de twee het centrum controleert en de ander niet. Tot slot het moeilijkste: verschillende combinaties spelen een rol, kun je er een paar vinden?



.....

.....

.....

.....

.....

.....

.....

.....

Schrijf een stukje waarin je aangeeft wie er goed staat volgens jou.