

Proefexamen Sijbrands-diploma Wit (thema 1 t/m 5)

 **Opdracht 1**

Combineren is schijven weggeven om er daarna meer voor terug te slaan. In de volgende drie diagrammen is het wit die begint en wint. Zet de oplossing onder de diagrammen.

DIAGRAM 1

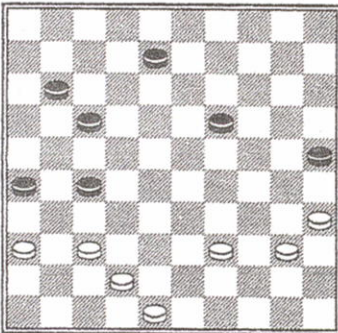


DIAGRAM 2

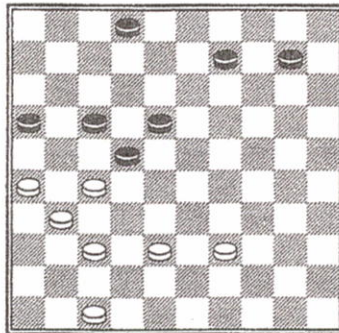


DIAGRAM 3

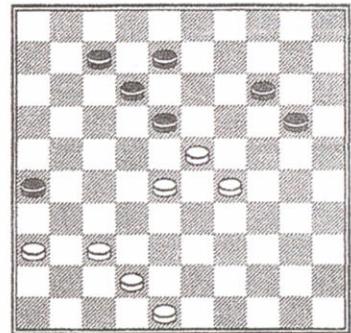
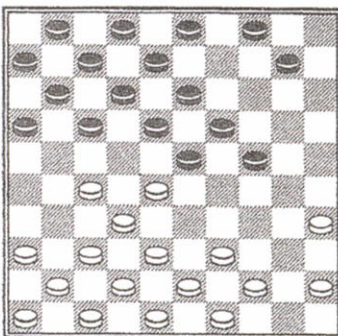


DIAGRAM 4



 **Opdracht 2**

De partij is nog maar net begonnen. Wit speelde hier 39-33. Na afloop van de partij vroeg zijn trainer of hij had zitten slapen! Snap jij waarom zijn damtrainer dat vroeg? Zie jij een betere zet? Zo ja, welke?

.....

.....

 **Opdracht 3**

In diagram 5 moet je de stand even afmaken. Bij de drukker is er een witte schijf afgefallen. Zet de schijf zo neer dat wit een damcombinatie kan uitvoeren.

A. Welke schijf zet je erbij?

B. Welke slagzet kan wit dan uitvoeren?

.....

DIAGRAM




DIAGRAM 6

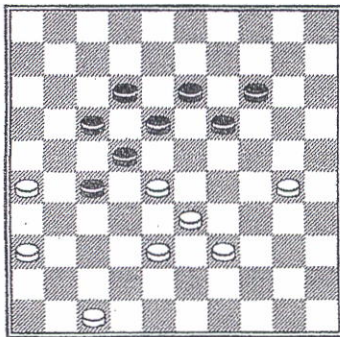


DIAGRAM 7





DIAGRAM 8



Opdracht 4

In diagram 6 kan wit een mooie doorbraakcombinatie uitvoeren naar veld 10. Kijk goed naar de stand en beantwoord de volgende vragen.

- A. Zoek de slagroute en teken die in diagram 6.
- B. Welke witte schijf moet de slag uitvoeren?

.....
C. Welke twee zwarte schijven staan op de route in de weg?

.....
D. Welke zwarte schijf staat niet op de slagroute, maar wel in de weg?

.....
E. Geef de oplossing van de combinatie.

.....
F. Teken de overblijvende stand in het lege diagram 7.

G. Hoeveel schijven heeft wit gewonnen?
.....



Opdracht 5

A. Teken de volgende cijferstand in het lege diagram 8.
Wit: 27, 28, 32, 33, 35, 38, 40, 42 en 45 (negen schijven).
Zwart: 3, 9, 11, 12, 13, 15, 16, 19, 23 en 25 (negen schijven).

B. In het algemeen kun je stellen dat de binding 23 en 25 niet goed is.
Deze stelling is juist / onjuist?

C. Wit speelt en wint. Hoe?

.....
D. Hoe noemen we deze combinatie?

- a. Hielslag.
- b. Kaatsingslag.
- c. Coup Philippe.
- d. Coup royal.